

KİTAPÇIK TÜRÜ

M

T.C.
MİLLÎ EĞİTİM BAKANLIĞI
YENİLİK VE EĞİTİM TEKNOLOJİLERİ
GENEL MÜDÜRLÜĞÜ

Ölçme, Değerlendirme ve Yerleştirme Grup Başkanlığı

6. GRUP

MOTORLU TAŞIT SÜRÜCÜ ADAYLARI SINAVI
08/12/2013

Ad ve Soyadı :
T.C. Kimlik No :

ADAYLARIN DİKKATİNE!

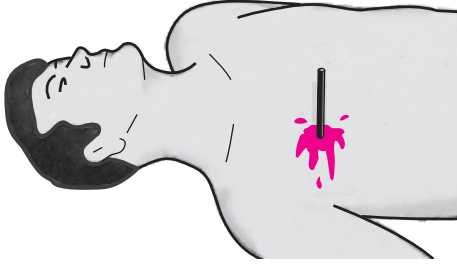
1. Bu kitapçıkta **60** soru yer almaktadır. Bu sınavda **75** dakikalık cevaplama süreniz vardır.
2. Sınav saat **11:00**'de başlayacaktır. Sınav başladıktan sonra ilk **60** dakika dolmadan dışarı çıkmayınız.
3. Sınav sırasında sözlük, hesap cetveli veya makinesi, çağrı cihazı, cep telefonu, telsiz, radyo gibi elektronik iletişim araçlarını yanınızda bulundurmuyunuz. Bu araçları kullanmanız ve kopya çekmeye teşebbüs etmeniz hâlinde sınavınız geçersiz sayılacaktır.
4. Başvuru şartlarını taşımadığınız hâlde sınava girmeniz, kopya çekmeniz, cevap kâğıdınızdaki fotoğraf ve bilgiler ile geçerli kimlik belgenizdeki (nüfus cüzdanı, pasaport veya sürücü belgenizdeki) bilgilerde uyumsuzluk olması, başka adayın sınav evrakını kullanmanız, geçerli kimlik belgenizi ve sınav giriş belgenizi ibraz edemediğiniz durumlarda sınavınız geçersiz sayılacaktır.
5. Elektronik iletişim araçlarıyla kopya çekmeniz, yerinize başka birinin sınava girdiğinin belirlenmesi veya organize olarak kopya çekme eylemine karıştığınızın tespit edilmesi durumunda bir yıl süreyle sınava alınmayacaksınız.
6. Sınavın değerlendirilmesi aşamasında, bilgisayar ortamında yapılan kopya analizinde ikili veya toplu kopya tespiti hâlinde sınavınız geçersiz sayılacaktır.

CEVAP KÂĞIDI VE SORU KİTAPÇIĞI İLE İLGİLİ AÇIKLAMALAR

1. Cevap kâğıdınızdaki bilgilerin doğruluğunu kontrol ediniz. T.C. kimlik numaranızı, ad ve soyadınızı mürekkepli kalemle yazarak imzalayınız.
2. **Adınıza düzenlenmiş cevap kâğıdı üzerinde belirtilen kitapçık türünüze uygun soru kitapçığını almamış iseniz, bunu salon görevlilerine bildirerek uygun kitapçıkla değiştirilmesini sağlamakla yükümlüsünüz. Bu durumu salon görevlilerine bildirmediğiniz ya da geç bildirdiğinizde tüm sorumluluk size ait olacaktır.**
3. Cevap kâğıdı üzerinde kodlamalarınızı kurşun kalemle yapınız.
4. Değiştirmek istediğiniz bir cevabı, yumuşak silgiyle cevap kâğıdını örselemeden temizce siliniz ve yeni cevabınızı kodlayınız.
5. Soru kitapçığının sayfalarını kontrol ediniz, baskı hatası var ise değiştirilmesini sağlayınız.
6. Soru kitapçığının ön yüzündeki ilgili yerlere ad, soyad ve T.C. kimlik numaranızı yazınız.
7. Her sorunun dört seçeneğinden sadece biri doğrudur. Doğru seçeneği, cevap kâğıdınıza soru numarasını dikkate alarak yuvarlağın dışına taşırmadan kodlayınız. **Soru kitapçığı üzerinde yapılan cevaplandırmalar dikkate alınmayacaktır.**
8. Yanlış cevaplarınız dikkate alınmadan sadece doğru cevaplarınız üzerinden puanlama yapılacaktır.
9. Başarılı sayılabilmemiz için en az **70** puan almanız gerekir.
10. Soruları ve sorulara verdiğiniz cevapları, yanınızda götürmek amacıyla kaydetmeyiniz; hiçbir şekilde dışarı çıkarmayınız.
11. **Sınav bitiminde, sınav giriş belgesi, soru kitapçığı ve cevap kâğıdını salon görevlilerine teslim ediniz.**

Arka kapaktaki açıklamalara geçiniz.

1.



Şekildeki gibi cisim batması durumunda ilk yardım olarak aşağıdaki uygulamalardan hangisinin yapılması doğrudur?

- A) Cismin dışarıda kalan kısmının kesilmesi ve yaranın sarılması
- B) Cismin çıkarılmadan sabitlenmesi ve yaralının hastaneye sevk edilmesi
- C) Cismin çıkarılması ve yaralının hastaneye sevk edilmesi
- D) Cismin çıkarılması ve yaraya tentürdiyot dökülmesi

2. Koma halindeki kazazedeye aşağıdakilerden hangisi yapılmaz?

- A) Solunum ve nabız kontrolü
- B) Sıkan giysilerin gevşetilmesi
- C) Ağızdan yiyecek, içecek verilmesi
- D) Ağız içinde yabancı cisim olup olmadığının kontrolü

3. I- Kazanın yeri doğru ve açık şekilde belirtilmeli
II- Yaralıların genel durumları ve sayıları bildirilmeli
III- Çağrıyı yapan, kimlik bilgilerini ve telefon numarasını vermeli

Yukarıdakilerden hangileri ilk yardımda haberleşme ilkelerindedir?

- A) Yalnız I
- B) I ve II
- C) II ve III
- D) I, II ve III

4. Aşağıdakilerden hangisi omurga yaralanmasına bağlı olarak meydana gelebilir?


- A) Saç dökülmesi
- B) Bedensel aktivitede artma
- C) Ağızdan köpüklü kan gelmesi
- D) Yaralanma bölgesinin alt tarafında felç

5. Kırıkların ilk yardım sırasında atel ile tespit edilmesinin amacı nedir?

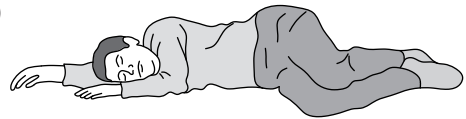
- A) Kapalı kırıkların açık kırık hâline gelmesini sağlamak
- B) Kırığın çevre dokulara zarar vermesini engellemek
- C) Kırığın her yöne hareket etmesini sağlamak
- D) Yeni kırıkların oluşmasını engellemek

6. Kaburga kemiğinde kırık olan kazazedeye aşağıdaki pozisyonlardan hangisi verilerek hastaneye sevk edilmelidir?

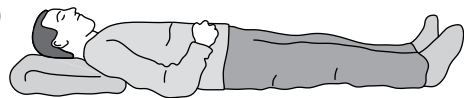
A)



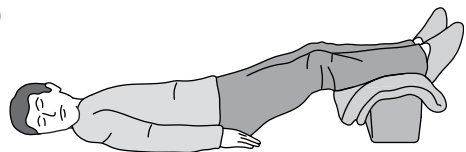
B)



C)



D)



7. Kaza sonucu vücudun hangi kısımlarında çukuk görülebilir?

- A) Kafatası eklemlerinde
- B) Hareketli eklem yerlerinde
- C) Diz ile kalça arasındaki kemikte
- D) Dirsek ile omuz arasındaki kemikte

8. Aşağıdakilerden hangisi burkulmalarda yapılan ilk yardım uygulamalarındandır?

- A) Eklemdeki ağrıya rağmen hemen hareket ettirilmesi
- B) Burkulma ayakta ise kalp seviyesinden aşağıda tutulması
- C) Eklem bölgesindeki şişliği azaltmak için turnike uygulanması
- D) Şişlik ve ağrıyı azaltmak için öncelikle soğuk uygulama yapılması

9. Aşağıdakilerden hangisi yan yatış pozisyonuna alınarak taşınabilir?

- A) Bulantı ve kusması olan
- B) Kalça kemiğinde kırık olan
- C) Omurilik zedelenmesi olan
- D) Göğüs kemiğinde kırık olan

10. Dinlenme hâlindeki sağlıklı yetişkin bir insanda, normal nabız (kalbin dakikadaki atımı) sayısı hangi değerler arasında olmalıdır?

- A) 10 - 20
- B) 40 - 50
- C) 60 - 100
- D) 100 - 120

11. Aşağıdakilerden hangisi solunum sistemi organlarındanındır?

- A) Akciğer
- B) Mide
- C) Karaciğer
- D) Beyin

12. Hangi çeşit kanamada kısa sürede çok kan kaybedilir?

- A) Burun
- B) Atardamar
- C) Kılcal damar
- D) Toplardamar

13. Kanamanın olduğu damar, parmakla kemik arasında sıkıştırılarak kanama durdurulabilir.

Bu yöntemin uygulanması aşağıdaki durumların hangisinde sakıncalıdır?

- A) Toplardamar kanamaları
- B) Bacak bölgesi kanamaları
- C) Çökme kırık ile birlikte olan kanamalar
- D) Koyu renkli ve yayılarak akan kanamalar

14. Organlara özellikle beyne yeterli miktarda kan gitmemesi sonucu vücuttaki yaşamsal işlevlerin azalması durumu aşağıdakilerden hangisidir?

- A) Şok
- B) Tıkanma
- C) Kalp durması
- D) Soluk durması

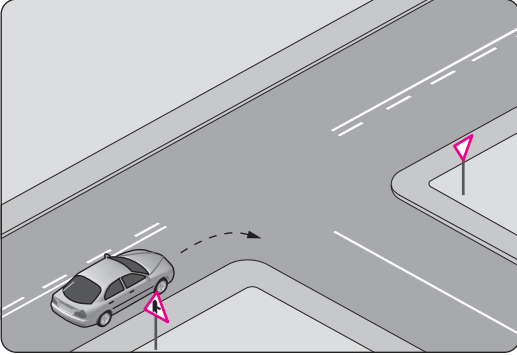
15. Aşağıdaki durumların hangisinde kazazedeye baş-çene pozisyonu verilmesi uygundur?

- A) Burun kanaması olan
- B) Bulantı ve kusması olan
- C) Solunum yolu tıkalı olan
- D) Boyun omurunda zedelenme olan

16. Kalp masajı yapılacak olan kazazede hangi pozisyonda ve nereye yatırılmalıdır?

- A) Sırtüstü, sert bir zemine
- B) Yüzüstü, sert bir zemine
- C) Sırtüstü, yumuşak bir zemine
- D) Yüzüstü, yumuşak bir zemine

17.



Şekildeki gibi sağa dönüş yapacak olan sürücü, aşağıdakilerden hangilerini yapmalıdır?

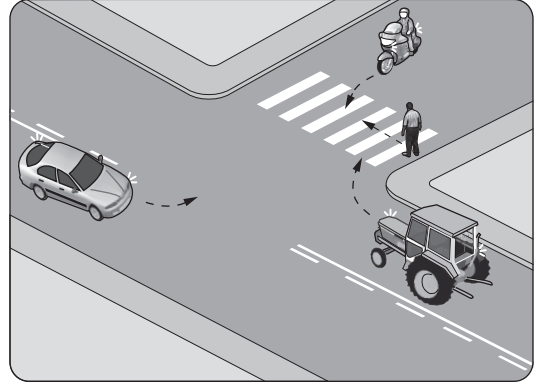
- I- Sağa dönüş lambasını yakmalı
- II- Hızını azaltmalı
- III- Dar bir kavisle dönmeli

- A) Yalnız I
- B) I ve II
- C) II ve III
- D) I, II ve III

18. Tehlikeli eğimli yollarda karşılaşma hâlinde; çıkan aracın geçişi zorsa, inen aracın sürücüsü ne yapmalıdır?

- A) Çıkan aracın geri gitmesini sağlamalı
- B) Motoru durdurup, vitesi boşa alıp inmeli
- C) Çıkan aracın sürücüsünü ikaz ederek yavaşlatmalı
- D) Varsa sığınma cebine girmeli, yoksa sağa yanaşıp durmalı

19. Şekildeki gibi bir karşılaşmada ilk geçiş hakkını hangisi kullanmalıdır?

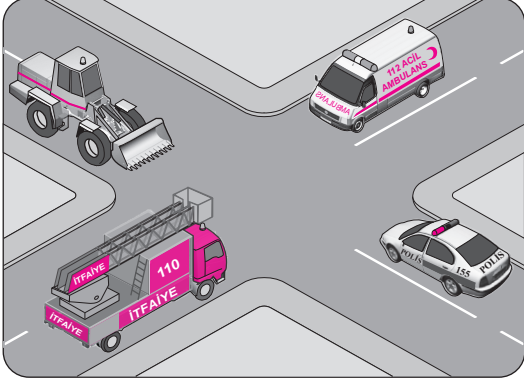


- A) Traktör
- B) Yaya
- C) Otomobil
- D) Motosiklet

20. Ticari amaçla yolcu taşımacılığı yapan ve taşıma kapasitesi şoförü dahil 9 kişiyi geçen araçların şoförlerinin; sürekli 4,5 saatlik araç kullanma süresi sonunda, eğer istirahata çekilmiyor ise en az kaç dakika mola almaları mecburidir?

- A) 20
- B) 25
- C) 35
- D) 45

21. Şekilde görülen geçiş üstünlüğüne sahip araçların, görev hâlinde karşılaşmaları durumunda ilk geçiş hakkını hangisi kullanmalıdır?



- A) Ambulans
B) Polis aracı
C) İş makinesi
D) İtfaiye aracı

22. Buzlanmanın olduğu yolda sürücünün hangisini yapması doğrudur?

- A) Viraja sert girmesi
B) Takip mesafesini artırması
C) Takip mesafesini azaltması
D) Ani fren yaparak durmaya çalışması

23. Haritada yeri gösterilen illerden hangisi daha doğudadır?

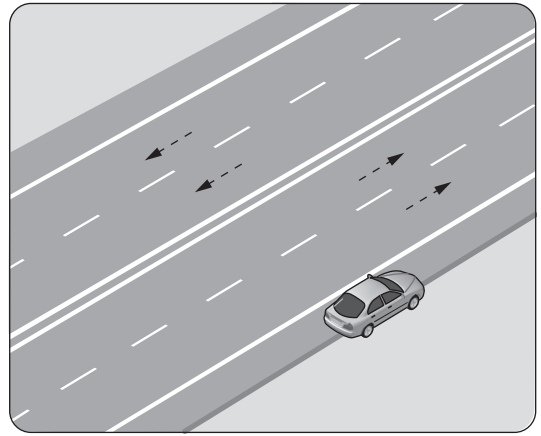


- A) Uşak
B) Sivas
C) Konya
D) Trabzon

24. Aşağıdakilerden hangisi özel araçların gereksiz kullanılmasının sonuçlarındandır?

- A) Trafik yoğunluğunun azalması
B) Trafik yoğunluğunun artması
C) Gürültü kirliliğinin önlenmesi
D) Yakıt tüketiminin azalması

25. Şekildeki gibi park etmiş aracın hangi tarafında duraklama yapılamaz?

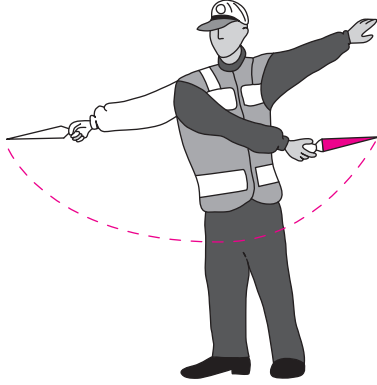


- A) Önünde
B) Arkasında
C) Yol tarafındaki yanında
D) Ön ve arkasına 50 metre mesafede

26. Geceleri kara yolunda karşı yönden gelen sürücülerin gözlerini kamaştırmamak için hangi ışıkların yakılması zorunludur?

- A) Park ışıklarının
B) Acil uyarı ışıklarının
C) Uzağı gösteren ışıkların
D) Yakını gösteren ışıkların

27. Trafik görevlisinin geceleyin ışıklı işaret çubuğunu şekildeki gibi hareket ettirmesinin sürücüler için anlamı nedir?



- A) Dur işareti
B) Dönüş işareti
C) Yavaşlatma işareti
D) Hızlandırma işareti

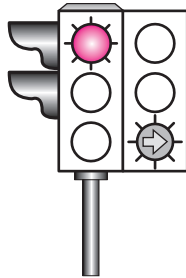
28. Seyir esnasında sürücü ve yolcuların emniyet kemeri kullanması, aşağıdakilerden hangisinin azalmasında etkili olur?

- A) Trafikteki görevli sayısı
B) Şehir içindeki trafik kazaları
C) Trafik kazalarındaki ölüm oranı
D) Şehirler arasındaki trafik kazaları

29. Şekildeki ışıklı trafik işaret cihazında, kırmızı ışık ve yeşil oklu ışık birlikte yanmaktadır.

Bu durum sürücülere aşağıdakilerden hangisini bildirir?

- A) Düz gidilebileceğini
B) Sadece sağa dönebileceğini
C) Sadece sola dönebileceğini
D) Yolun tüm yönlere açık olduğunu



30. İnsan faktörünün kazalarda oynadığı rolü belirlemek ve araştırma bulgularından yola çıkarak, kazaları engelleyebilecek önlemler üretmek aşağıdakilerden hangisinin alanına girer?

- A) Adli tıp
B) Kazazede
C) İlk yardımcı
D) Trafik psikolojisi

31. Bazı sürücülerin, trafik kurallarına uymasının en önemli sebebi aşağıdakilerden hangisidir?

- A) Trafik kurallarını davranış hâline dönüştürmemiş olmaları
B) Yanlış algıladıkları kurallara karşı tepki göstermek istemeleri
C) Trafik işaret ve levhalarının anlamlarını yeterince bilmemeleri
D) Trafik görevlilerinin ikazlarına karşı tepki göstermek istemeleri

32. Hususi otomobillerde 3 yaş sonunda kaç yılda bir muayene yaptırılması zorunludur?

- A) 1
B) 2
C) 3
D) 4

33. Yangın söndürme cihazı aracın neresinde bulunmalıdır?

- A) Arka bagajda
B) Torpido gözünde
C) Arka camın önünde
D) Sürücünün hemen yanında

34. B sınıfı sürücü belgesine sahip bir sürücünün kullanabileceği diğer sürücü belgesi sınıfı aşağıdakilerden hangisidir?

- A) A2 B) E C) F D) G

35. Kara yollarında gerekli düzenleme ve iş-retmeleri aşağıdakilerden hangisi yapar?

- A) Emniyet Genel Müdürlüğü
B) Karayolları Genel Müdürlüğü
C) Trafik Kazalarını Önleme Derneği
D) Bilim, Sanayi ve Teknoloji Bakanlığı

36. Yayaların, hayvanların ve araçların kara yolları üzerindeki hâl ve hareketlerine ne ad verilir?

- A) Erişme B) Ulaşım
C) Trafik D) Taşıma

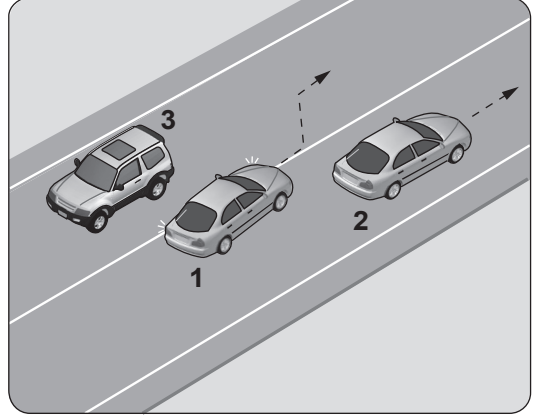
37. Tabloda çeşitli hızlara göre olması gereken en az takip mesafeleri verilmiştir.

Hız (km/h)	Takip mesafesi (m)
60	30
80	40
90	45

Buna göre aşağıdakilerden hangisi söylenebilir?

- A) Takip mesafesi hızın metre cinsinden en az yarısı kadardır.
B) Hız ile takip mesafesi arasında bir ilişki kurulamaz.
C) Hız arttıkça takip mesafesi sabit kalır.
D) Hız arttıkça takip mesafesi azalır.

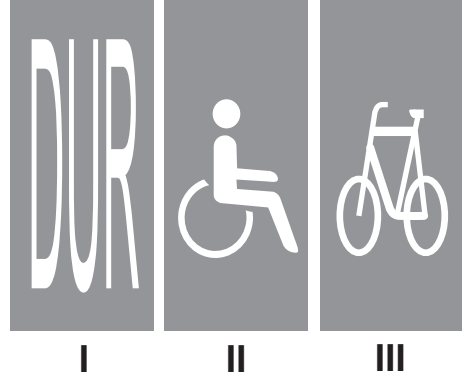
38.



Şekle göre aşağıdakilerden hangisi kesinlikle söylenir?

- A) 3 numaralı aracın şerit ihlali yaptığı
B) 2 numaralı aracın şerit ihlali yaptığı
C) 1 numaralı aracın geçme yasağına uymadığı
D) 2 ve 3 numaralı araçların normal hızın altında seyrettiği

39.



Taşıt yolu üzerine çizilen şekildeki yazı ve sembollerden hangileri, sürücülere araçlarını uygun mesafede mutlaka durdurmaları gerektiğini bildirir?


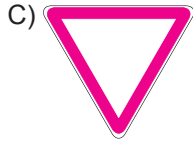
- A) Yalnız I B) I ve II
C) II ve III D) I, II ve III

40. Aksine bir işaret yoksa, yerleşim yeri dışındaki bölünmüş yollarda şekildeki araç için azami hız sınırı saatte kaç kilometredir?



- A) 90 B) 100 C) 110 D) 120

41. Aşağıdakilerden hangisi tehlikeli viraj yön levhasıdır?



42. Şekildeki trafik işaretine göre aşağıdakilerden hangisi yanlıştır?



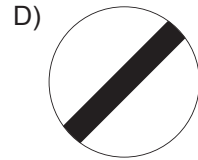

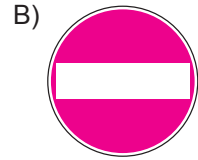
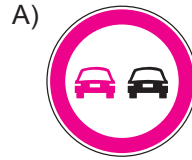
- A) Yol yüzeyi arızalıdır.
B) Yolda tümsek vardır.
C) Yoldan yavaş geçilmesi gerekir.
D) Yolda yapım çalışması vardır.

43. Şekildeki trafik işareti neyi bildirir?

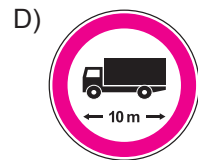
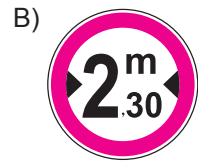
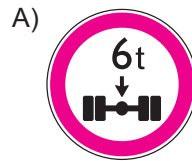


- A) Kaygan yola yaklaşıldığını
B) Sağa dönmenin yasaklandığını
C) Sağa tehlikeli viraja yaklaşıldığını
D) Sağ taraftan tek yönlü yola girileceğini

44. Aşağıdakilerden hangisi girişi olmayan yol işaret levhasıdır?



45. Aşağıdaki trafik işaretlerinden hangisi yükseklik anlamında gabari sınırlamasının olduğunu bildirir?



46. • Gözlerini açık tutmakta zorlanıyorsa
• Dalıyor ya da dikkatini toplayamıyorsa

Araç kullanırken yukarıda verilen belirtilerin sürücüde sezilmesi halinde aşağıdakilerden hangisi yapılmalıdır?

- A) Mola verilmeli
B) Yola devam edilmeli
C) Gözler ovuşturulmalı
D) Baş dik tutmaya çalışılmalı

47. Kara yollarında meydana gelen trafik kazaları ile ilgili olarak, kazaya karışan veya olay yerinden geçmekte olan sürücünün yasal sorumluluğu nedir?

- A) Sadece olaya karışan sürücülerin müdahale etme mecburiyeti vardır.
B) Sadece sağlık personeli olanların müdahale etme mecburiyeti vardır.
C) Kendi isteğine bağlı olarak müdahale etmeyebilir.
D) Her durumda müdahale etmekle yükümlüdür.

48. Sürücü belgesi olmayanların araç kullanarak trafiğe çıktıklarının tespiti hâlinde aşağıdakilerden hangisi uygulanır?

- A) İdari para cezası
B) Ağır hapis cezası
C) Aracı en sağ şeritten sürme cezası
D) Sürücü belgesi almaktan men cezası

49. Akünün elektrolit seviyesi azalmış ise ne ilave edilir?

- A) Asit
B) Alkol
C) Antifriz
D) Saf su





50. Aşağıdakilerden hangisi, aracın yavaşlaması ve durması hâllerinde diğer araçları ikaz etmek amacıyla yanar?

- A) Sis lambaları
B) Park lambaları
C) Fren lambaları
D) İç aydınlatma lambaları

51. Aşağıdakilerden hangisinin periyodik bakımı yapılmadığında motorun içine giren hava akışı zorlaşır, motor çekişten düşer ve yakıt sarfiyatı artar?

- A) Yağ filtresi
B) Hava filtresi
C) Yakıt filtresi
D) Polen filtresi

52. Seyir hâlindeki aracın gösterge panelinde aşağıdaki ikaz ışıklarından hangisinin yanıyor olması, trafik kurallarına uymak şartıyla derhal durulması gerektiğini belirtir?

- A)  B) 
C)  D) 

53. Aşağıdakilerden hangisi, aracı kullanmaya başlamadan önce yapılması gereken hazırlıklardan biri değildir?

- A) Radyonun açılması
B) Koltuğun ayarlanması
C) Aynaların ayarlanması
D) Emniyet kemerinin takılması

54. Otomobillerde, mekanizmayı oluşturan motor, tekerlek, şasi vb. bölümlerin dışında kalan, görünen dış bölüme ne ad verilir?

- A) Kavrama B) Karoseri
C) Manifold D) Süspansiyon

55. Motorun soğutma sisteminde kullanılan antifriz, donmayı önlemenin yanısıra soğutma sıvısının geçtiği yerlerde korozyonu, paslanmayı ve kireç oluşumunu da engelleyerek parçaların ömrünü artırmaktadır.





Buna göre, antifriz kullanımı motorlarda hangi durumda tercih edilmelidir.

- A) Her türlü iklim şartlarında
B) Sadece sıcak yaz aylarında
C) Sadece zorlu kış koşullarında
D) Donma gerçekleştikten sonra

56. Aracın lastikleri ne zaman kontrol edilir?

- A) Günde bir
B) Haftada bir
C) Altı ayda bir
D) Araca binileceği zaman

57. Dizel motorlu aracın gösterge panelinde aşağıdaki ikaz ışıklarından hangisinin yanıyor olması, ısıtma bujilerinin çalışmakta olduğunu bildirir?

- A)  B) 
C)  D) 

58. Aşağıdakilerden hangisinin eksilmesi veya özelliğini kaybetmesi durumunda kuru sürtünme sonucu oluşan ısının etkisiyle motor parçaları birbirine kaynar ve sıkışır?

- A) Motor yağı B) Antifriz
C) Fren hidroliği D) Akü elektroliti

59. Yakıt içerisinde toz, su veya pislik varsa motor nasıl çalışır?

- A) Rölantide
B) Yüksek devirde
C) Zengin karışımla
D) Düzensiz, tekleyerek

60. Yakıtı doğrudan doğruya silindirler içerisinde yakan ve üretilen ısı enerjisini piston-biyel mekanizması ile krank miline ileten motorlara ne ad verilir?

- A) Marş motoru
B) Elektrik motoru
C) İçten yanmalı motor
D) Dıştan yanmalı motor

TEST BİTTİ.
CEVAPLARINIZI KONTROL EDİNİZ.

SINAV SÜRESİNCE UYULACAK KURALLAR

- 1. Adaylar, sınav kurallarına ve salon görevlilerinin tüm uyarılarına uymak zorundadırlar. Kurallara ve uyarılara uymayan adayların sınavları geçersiz sayılacaktır.**
2. Sınav başladıktan sonra adayların salon görevlileri ve birbirleri ile konuşmaları, kalem, silgi vb. şeyleri istemeleri yasaktır.
3. Adaylar sınav süresince, sınav giriş belgesi ile birlikte kimlik belgelerinden birini (nüfus cüzdanı, pasaport veya sürücü belgesi) masalarının üzerinde bulundurmamak zorundadırlar.
- 4. Sınav evraklarını teslim etmeyen, soru kitapçıklarının sayfalarından bir kısmını eksik teslim edenlerin sınavları geçersiz sayılacaktır.**

SALON GÖREVLİLERİNCE SINAV BAŞLAMADAN ÖNCE ADAYLARA YAPILACAK SON UYARI

- Soracağınız bir şey var mı? Varsa şimdi sorunuz.
- Sınav başladıktan sonra sorularınıza cevap verilmeyecektir.
- Başlama zilini bekleyiniz.
- Hepinize başarılar dileriz.

(Salon başkanı başlama ve bitiş saatini tahtaya yazacaktır.)

Bu kitapçığın her hakkı saklıdır. Hangi amaçla olursa olsun, kitapçığın tamamının veya bir kısmının Millî Eğitim Bakanlığı Yenilik ve Eğitim Teknolojileri Genel Müdürlüğünün yazılı izni olmadan kopya edilmesi, fotoğraflarının çekilmesi, bilgisayar ortamına alınması, herhangi bir yolla çoğaltılması, yayımlanması veya başka bir amaçla kullanılması yasaktır. Bu yasağa uymayanlar, doğabilecek cezai sorumluluğu ve kitapçığın hazırlanmasındaki mali külfeti peşinen kabullenmiş sayılır.

“BAŞLAYINIZ” DENİLMEDEN SORU KİTAPÇIĞINI AÇMAYINIZ.

08.12.2013 TARİHİNDE YAPILAN MOTORLU TAŞIT SÜRÜCÜ ADAYLARI SINAVI (MTSAS)
M KİTAPÇIĞI CEVAP ANAHTARIDIR

MOTORLU TAŞIT SÜRÜCÜ
ADAYLARI SINAVI

- | | |
|-------|-------|
| 1. B | 51. B |
| 2. C | 52. C |
| 3. D | 53. A |
| 4. D | 54. B |
| 5. B | 55. A |
| 6. A | 56. D |
| 7. B | 57. B |
| 8. D | 58. A |
| 9. A | 59. D |
| 10. C | 60. C |
| 11. A | |
| 12. B | |
| 13. C | |
| 14. A | |
| 15. C | |
| 16. A | |
| 17. D | |
| 18. D | |
| 19. B | |
| 20. D | |
| 21. A | |
| 22. B | |
| 23. D | |
| 24. B | |
| 25. C | |
| 26. D | |
| 27. B | |
| 28. C | |
| 29. B | |
| 30. D | |
| 31. A | |
| 32. B | |
| 33. D | |
| 34. C | |
| 35. B | |
| 36. C | |
| 37. A | |
| 38. C | |
| 39. A | |
| 40. C | |
| 41. A | |
| 42. D | |
| 43. C | |
| 44. B | |
| 45. C | |
| 46. A | |
| 47. D | |
| 48. A | |
| 49. D | |
| 50. C | |